

ΔΗΜΟΤΙΚΟ ΣΧΟΛΕΙΟ

Όνομα: _____ Τάξη: _____

Ημερομηνία: _____ Σχόλια: _____

ΔΙΑΓΩΝΙΣΜΑ ΕΝΟΤΗΤΑ 7

1. Κύκλωσε τη σωστή απάντηση:

$34+25=$ 78 59 95

$98-26=$ 77 63 72

$73+25=$ 98 73 24

$65-23=$ 33 42 88

2. Βρες τον επόμενο αριθμό:

24, 34,

80, 60,

48, 37,

3. Λύσε τις παρακάτω εξισώσεις με πολλή προσοχή.

$23 + 42 = \square$

$54 - 31 = \square$

$\square + 25 = 68$

$36 + 31 = \square$

$78 - 36 = \square$

$\square + 5 = 77$

$31 + \square = 61$

$58 - \square = 53$

$\square - 5 = 41$

$33 + \square = 93$

$98 - \square = 68$

$\square - 22 = 63$

Λύσε τα πιο κάτω προβλήματα:

1. Η Ανδριανή είχε στη συλλογή της 36 γραμματόσημα. Της χάρισε 3 καινούρια η θεία της. Πόσα γραμματόσημα έχει τώρα;

Μαθηματική πρόταση: _____

Απάντηση: _____

2. Η Έλενα είχε στον κουμπαρά της μερικά χρήματα. Ξόδεψε €5 για να αγοράσει ένα βιβλίο. Της έμειναν €23. Πόσα χρήματα είχε στην αρχή;

Μαθηματική πρόταση: _____

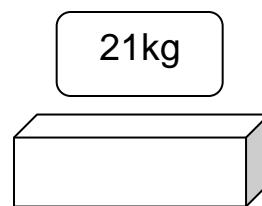
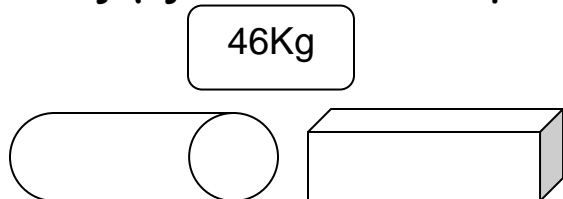
Απάντηση: _____

3. Ο Ιωάννης έχει 87 € στον κουμπαρά του. Θέλει να αγοράσει ένα βιβλίο που κοστίζει 16 € και ένα ποδήλατο που στοιχίζει 50 €. Πόσα χρήματα θα του μείνουν μετά από τις αγορές του;

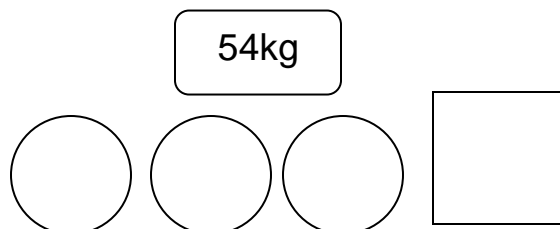
Μαθηματική πρόταση: _____

Απάντηση: _____

Πόσο ζυγίζει το κάθε αντικείμενο:



Πόσο ζυγίζει ο κύλινδρος; _____



Πόσο ζυγίζει η σφαίρα; _____