

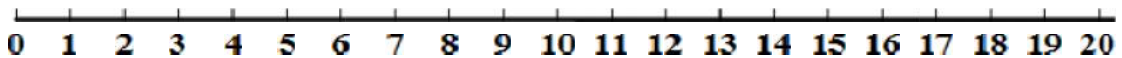
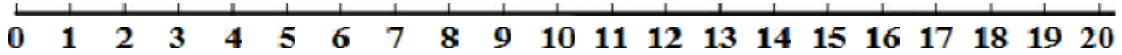


ΔΗΜΟΤΙΚΟ ΣΧΟΛΕΙΟ



Όνομα: _____ Τάξη: _____

Διαγνωστική άσκηση



1. Συμπλήρωσε τους αριθμούς που λείπουν από την αριθμητική γραμμή.



2. Συνέχισε το μοτίβο.



3. Να συμπληρώσεις τις μαθηματικές προτάσεις με τους αριθμούς στα μπαλόνια.



_____	+	_____	=	_____
_____	+	_____	=	_____
_____	-	_____	=	_____
_____	-	_____	=	_____

_____	+	_____	=	_____
_____	+	_____	=	_____
_____	-	_____	=	_____
_____	-	_____	=	_____



4. Λύσε τις εξισώσεις.

$17 - 9 =$

$11 - 9 =$

$11 - 6 =$

$15 - 6 =$

$16 - 7 =$

$16 - 9 =$

$13 - 8 =$

$15 - 8 =$

$18 - 9 =$

$12 - 7 =$


$12 - 4 =$

$15 - 7 =$

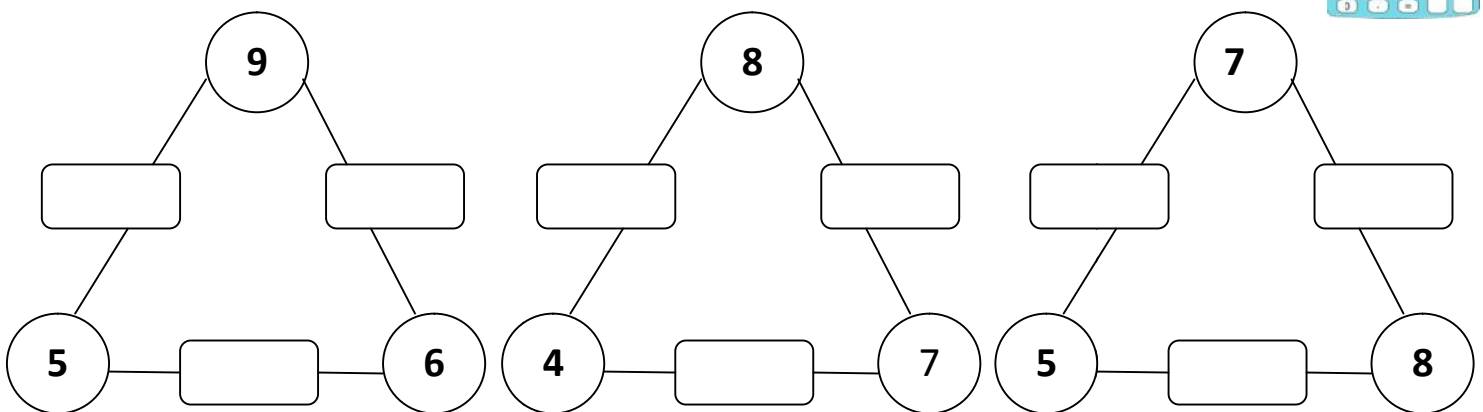
$13 - 4 =$

$13 - 7 =$

$14 - 6 =$



5. Συμπλήρωσε τα διαγράμματα.



6. Βρες τον αριθμό που λείπει.

$5 + \square = 12$

$\square + 6 = 11$

$6 + \square = 14$

$7 + \square = 11$

$\square + 5 = 13$

$9 + \square = 16$

$9 + \square = 11$

$\square + 7 = 12$

$8 + \square = 14$

$8 + \square = 13$

$\square + 9 = 15$

$6 + \square = 12$