



ΔΗΜΟΤΙΚΟ ΣΧΟΛΕΙΟ


Όνομα: _____ Τάξη: _____

Επανάληψη στα Μαθηματικά - Ενότητα 1


1. Γράψε στα κουτάκια τους αριθμούς που λείπουν.

0		6	9	
	2	4		
15	12	9		


2. Συμπλήρωσε τη μαθηματική πρόταση για την κάθε εικόνα.



- =



- =



+ =

3. Κάνε τις πράξεις.

$13 + 3 =$

$8 + 6 =$

$15 - 5 =$

$9 + 5 =$

$9 + 7 =$

$4 + 9 =$

$20 - 4 =$

$16 - 2 =$

$15 - 3 =$

$11 - 7 =$

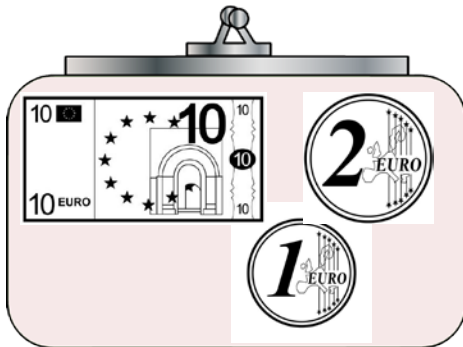
$3 - 16 =$

$17 - 3 =$

4. Με τους αριθμούς 7, 9 και 16 γράψε τέσσερις ισότητες:

_____	_____
_____	_____

5. Πόσα χρήματα έχει στο πορτοφόλι της η γιαγιά;



Απάντηση: _____

6. Μελέτησε τον τιμοκατάλογο και απάντησε τις ερωτήσεις που ακολουθούν:



Ξόδεψα 20
σεντ.

Τιμοκατάλογος

Τετράδιο	13 σεντ
Πένα	9 σεντ
Μπογιές	15 σεντ
Σβηστήρι	11 σεντ
Ξύστρα	7 σεντ

Κρατώ 14
σεντ.



1. Πόσο στοιχίζει μια πένα; _____
2. Πόσα στοιχίζουν δυο πένες; _____
3. Ποιο είναι το πιο ακριβό πράγμα στον τιμοκατάλογο; _____
4. Ποιο είναι το πιο φτηνό πράγμα στον τιμοκατάλογο; _____
5. Πόσες ξύστρες μπορεί να αγοράσει η Ξένια; _____
6. Τι νομίζεις αγόρασε ο Αντρέας; _____
