

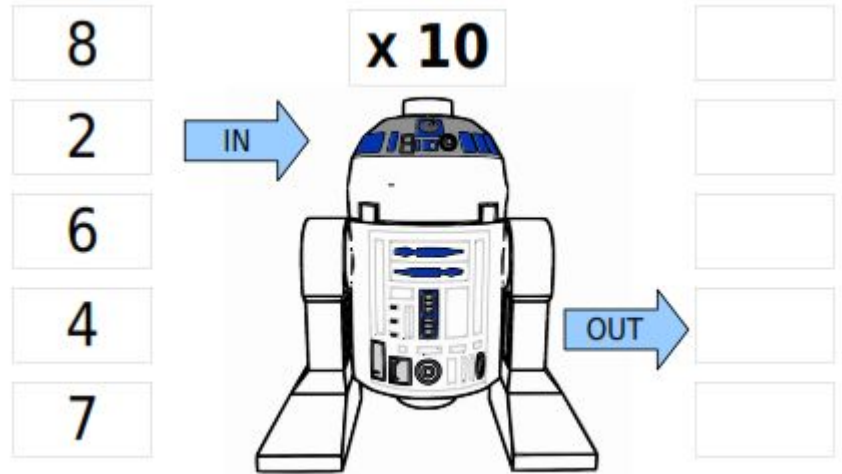
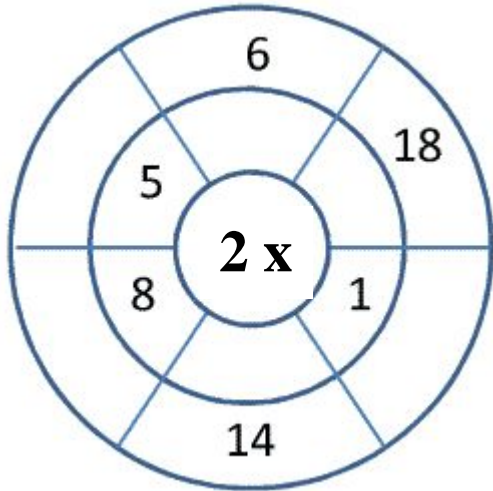


ΔΗΜΟΤΙΚΟ ΣΧΟΛΕΙΟ _____

Όνομα: _____ Τάξη: _____

Δοκίμιο αξιολόγησης πολλαπλασιασμών (Πίνακες 2, 5, 10)

1. Συμπλήρωσε τους αριθμούς που λείπουν.



2. Αντιστοίχισε τις εξισώσεις με το σωστό αποτέλεσμα.

2×5	<input type="radio"/>	40
4×5	<input type="radio"/>	5
5×1	<input checked="" type="radio"/>	20
6×5	<input type="radio"/>	35
9×5	<input type="radio"/>	10
5×10	<input checked="" type="radio"/>	25
5×3	<input type="radio"/>	15
7×5	<input type="radio"/>	30
5×5	<input checked="" type="radio"/>	50
5×8	<input type="radio"/>	45

3. Κύκλωσε τις εξισώσεις που σου δίνουν αυτό το αποτέλεσμα.

10: 5×2 , 6×3 , 2×5


20: 4×4 , 5×4 , 2×9

8: 2×4 , 8×1 , 3×5

16: 7×5 , 4×4 , 8×2

4: 2×2 , 4×1 , 3×4

4. Συμπλήρωσε το μονοπάτι.



6. Λύσε τις εξισώσεις.

$$8 : 2 = \square$$

$$40 : 10 = \square$$

$$25 : 5 = \square$$

$$6 : 2 = \square$$

$$30 : 10 = \square$$

$$80 : 10 = \square$$

$$20 : \square = 10$$

$$50 : \square = 5$$

$$35 : \square = 5$$

$$12 : \square = 2$$

$$40 : \square = 5$$

$$40 : \square = 4$$

5. Συμπλήρωσε όπως

το παράδειγμα.

