


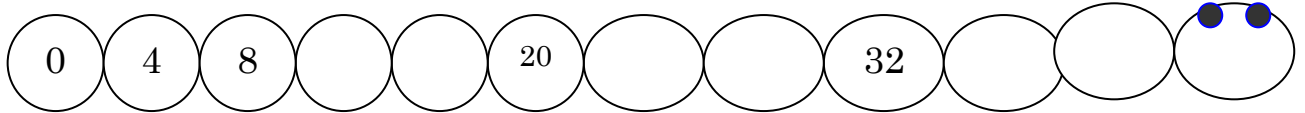


Δ' ΔΗΜΟΤΙΚΟ ΣΧΟΛΕΙΟ ΑΡΑΔΙΠΠΟΥ

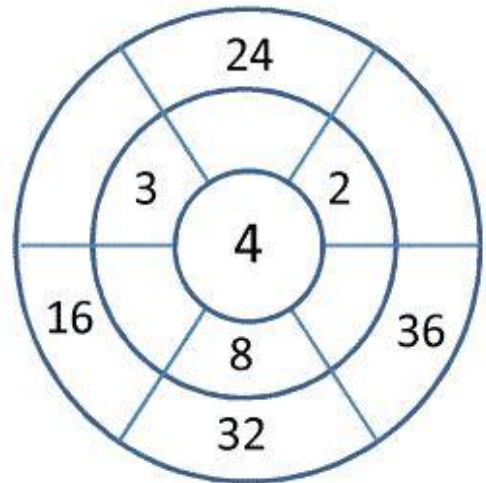
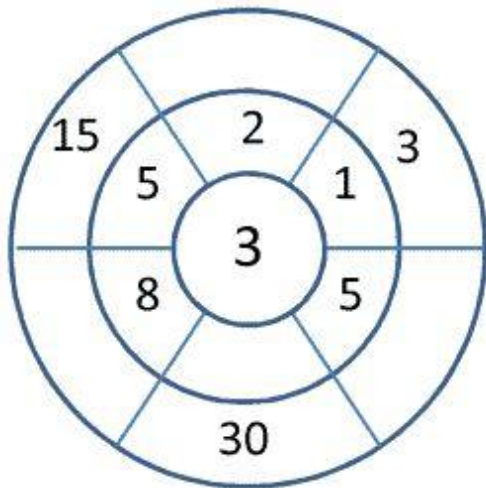
Όνομα: _____ Τάξη: _____

ΕΠΑΝΑΛΗΨΗ ΣΤΟΥΣ ΠΙΝΑΚΕΣ ΤΟΥ 3 ΚΑΙ 4

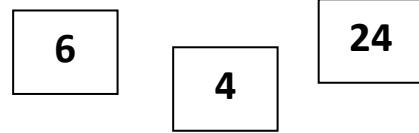

1. Συμπλήρωσε το μοτίβο στην κάμπα:



2. Συμπλήρωσε τους κύκλους:



3. Γράφω μαθηματικές προτάσεις χρησιμοποιώντας τους αριθμούς:



_____ X _____ = _____

_____ X _____ = _____

_____ X _____ = _____

_____ X _____ = _____

_____ : _____ = _____


_____ : _____ = _____


_____ : _____ = _____

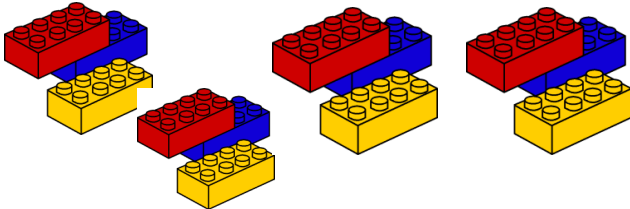
_____ : _____ = _____



Γράφω τη μαθηματική πρόταση πολλαπλασιασμού:























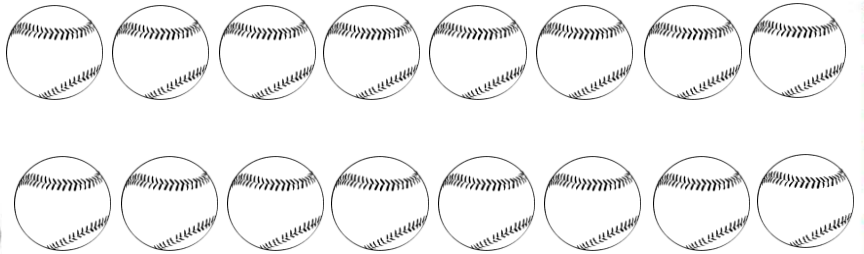





ΧΡΩΜΑΤΙΣΕ
1/4




ΧΡΩΜΑΤΙΣΕ
1/4




ΧΡΩΜΑΤΙΣΕ
1/4



ΧΡΩΜΑΤΙΣΕ
1/4




ΧΡΩΜΑΤΙΣΕ
1/4







ΧΡΩΜΑΤΙΣΕ
1/3




ΧΡΩΜΑΤΙΣΕ
1/3




ΧΡΩΜΑΤΙΣΕ
1/3



ΧΡΩΜΑΤΙΣΕ
1/3



ΧΡΩΜΑΤΙΣΕ
1/3



Ο Άρμπερ ζωγράφισε 4 σειρές με χταπόδια. Σε κάθε σειρά ζωγράφισε 7 χταπόδια. Πόσα χταπόδια ζωγράφισε;

Μαθηματική πρόταση: _____

Απάντηση: _____



Ο Κώστας αγόρασε 3 κουτιά με ξυλομπογιές. Κάθε κουτί έχει 6 ξυλομπογιές. Πόσες ξυλομπογιές έχει ο Κώστας;

Μαθηματική πρόταση: _____

Απάντηση: _____



Η Χριστίνα μέτρησε τις ξυλομπογιές και τους μαρκαδόρους που είχε στην κασετίνα της. Οι ξυλομπογιές ήταν 8 και οι μαρκαδόροι ήταν 4 φορές περισσότεροι. Πόσους μαρκαδόρους είχε στην κασετίνα της ;


Μαθηματική πρόταση: _____

Απάντηση: _____

Ο Νίκος είναι 3 ετών. Η ηλικία της Δήμητρας είναι τετραπλάσια από την ηλικία του Νίκου. Πόσων χρονών είναι η Δήμητρα;

Μαθηματική πρόταση: _____

Απάντηση: _____



Η κυρία Ελένη φύτεψε 3 σειρές τουλίπες. Σε κάθε σειρά έβαλε 9 τουλίπες. Πόσες τουλίπες φύτεψε συνολικά;

Μαθηματική πρόταση: _____

Απάντηση: _____