

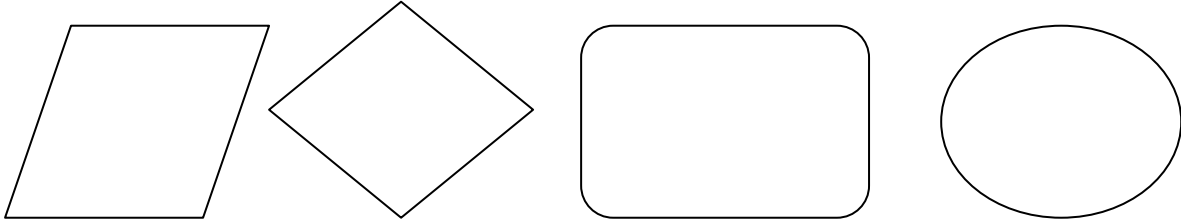


ΔΗΜΟΤΙΚΟ ΣΧΟΛΕΙΟ .....

Όνομα: \_\_\_\_\_ Τάξη: \_\_\_\_\_

### Επανάληψη στα κλάσματα ( $\frac{1}{4}$ )

Χρωματίζω το  $\frac{1}{4}$  των πιο κάτω σχημάτων:



Κάνω τις πράξεις:

$2 \times 4 =$

$24 : 4 =$

$20 : 4 =$

$4 \times 3 =$

$12 : 4 =$

$40 : 4 =$

$4 \times 10 =$

$16 : 4 =$

$80 : 4 =$

$9 \times 4 =$

$4 : 4 =$

$12 : 3 =$

$5 \times 4 =$

$8 : 4 =$

$36 : 9 =$

$4 \times 6 =$

$32 : 4 =$

$28 : 7 =$

$7 \times 4 =$

$28 : 4 =$


$32 : 8 =$

$8 \times 4 =$

$36 : 4 =$


$24 : 6 =$

Χρωματίζω το  $\frac{1}{4}$  των πιο κάτω σχημάτων:



Λύνω τα προβλήματα:

1. Η κυρία Άννα έχει στο ψυγείο 20 αυγά. Χρησιμοποίησε το  $\frac{1}{4}$  για να φτιάξει ένα γλύκισμα. Πόσα αυγά της έμειναν; \_\_\_\_\_
2. Ο Σάββας έχει 80 σεντ. Χρησιμοποίησε το  $\frac{1}{4}$  από αυτά για να αγοράσει ένα φρούτο από την καντίνα του σχολείου. Πόσα σεντ του έμειναν;  
\_\_\_\_\_
3. Η Χαράλαμπος έχει 40 βόλους. Στο παιχνίδι σήμερα πήρε μαζί του το  $\frac{1}{4}$  από αυτούς. Πόσους βόλους πήρε μαζί του; \_\_\_\_\_
4. Στο κουτί έχει 40 βόλους. Το  $\frac{1}{2}$  από τους βόλους είναι κόκκινοι, το  $\frac{1}{4}$  είναι γαλάζιοι και οι υπόλοιποι είναι κίτρινοι.



Πόσοι είναι οι κόκκινοι; \_\_\_\_\_

Πόσοι είναι οι γαλάζιοι; \_\_\_\_\_

Πόσοι είναι οι πράσινοι; \_\_\_\_\_

5. Οι δασκάλα σήμερα έδωσε το ένα  $\frac{1}{4}$  από τα αυτοκόλλητά της στους μαθητές της. Έδωσε 20 αυτοκόλλητα. Πόσα αυτοκόλλητα είχε η δασκάλα; \_\_\_\_\_
6. Η Μαρία έκοψε από τον κήπο το  $\frac{1}{4}$  από τα ανθισμένα τριαντάφυλλα. Έκοψε 10 τριαντάφυλλα. Πόσα ήταν όλα τα ανθισμένα τριαντάφυλλα;  
\_\_\_\_\_
7. Η δασκάλα έχει 20 χαρτονάκια. Το  $\frac{1}{2}$  έχουν χρώμα άσπρο, το  $\frac{1}{4}$  έχουν χρώμα πράσινο και τα υπόλοιπα είναι κίτρινα.  
Πόσα είναι τα άσπρα; \_\_\_\_\_  
Πόσα είναι τα πράσινα; \_\_\_\_\_  
Πόσα είναι τα κίτρινα; \_\_\_\_\_