

















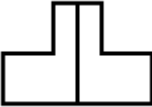

## ΚΛΑΣΜΑΤΑ

1. Κυκλώνω κάτω από κάθε σχήμα το κατάλληλο κλάσμα:


 $\frac{1}{2} \quad \frac{1}{3} \quad \frac{1}{4}$	<p>2.</p>  $\frac{1}{2} \quad \frac{1}{3} \quad \frac{1}{4}$	<p>3.</p>  $\frac{1}{2} \quad \frac{1}{3} \quad \frac{1}{4}$
<p>4.</p>  $\frac{1}{2} \quad \frac{1}{3} \quad \frac{1}{4}$	<p>5.</p>  $\frac{1}{2} \quad \frac{1}{3} \quad \frac{1}{4}$	<p>6.</p>  $\frac{1}{2} \quad \frac{1}{3} \quad \frac{1}{4}$
<p>7.</p>  $\frac{1}{2} \quad \frac{1}{3} \quad \frac{1}{4}$	<p>8.</p>  $\frac{1}{2} \quad \frac{1}{3} \quad \frac{1}{4}$	<p>9.</p>  $\frac{1}{2} \quad \frac{1}{3} \quad \frac{1}{4}$

2. Χρωματίζω το μέρος της επιφάνειας που μου λέει το κλάσμα:

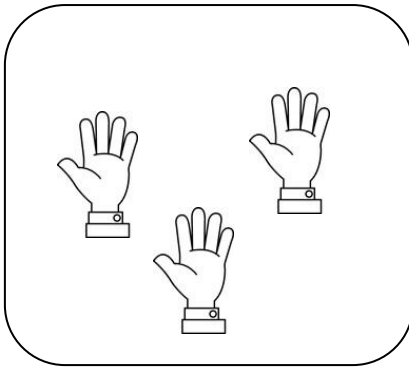
 $\frac{1}{4}$	 $\frac{1}{3}$	 $\frac{1}{3}$
 $\frac{1}{3}$	 $\frac{1}{3}$	 $\frac{1}{2}$

		
$\frac{1}{2}$	$\frac{1}{2}$	$\frac{1}{4}$


**3. Χρώματισε όσα λέει το κλάσμα:**




$$\frac{1}{3}$$




$$\frac{1}{3}$$




$$\frac{1}{2}$$



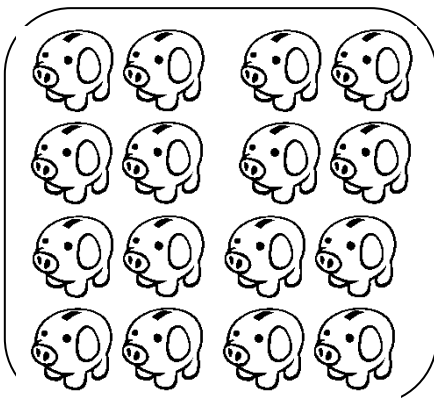
$$\frac{1}{2}$$



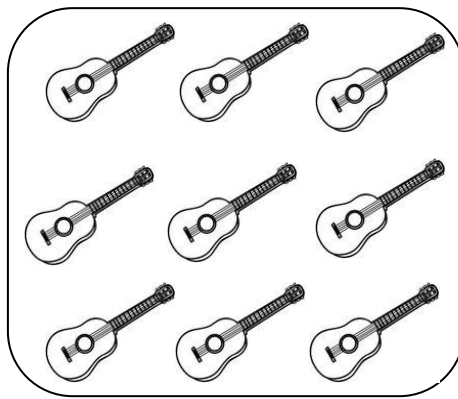
$$\frac{1}{4}$$




$$\frac{1}{4}$$



$$\frac{1}{4}$$



$$\frac{1}{3}$$



$$\frac{1}{2}$$

**4. Λύσε τα προβλήματα:**

1. Σχεδίασε 18 λουλούδια. Χρωμάτισε το  $\frac{1}{3}$  από αυτά με κόκκινο χρώμα και τα υπόλοιπα με κίτρινο.
2. Σχεδίασε 14 βόλους. Χρωμάτισε το  $\frac{1}{2}$  από αυτούς με μπλε χρώμα και τους υπόλοιπους με πορτοκαλί.
3. Σχεδίασε 16 πορτοκάλια. Χρωμάτισε το  $\frac{1}{4}$  απ' αυτά με πορτοκαλί χρώμα και τα υπόλοιπα με κίτρινο.
4. Ο πατέρας αγόρασε 8 παγωτά. Το  $\frac{1}{4}$  από αυτά είναι παγωτά σοκολάτας. Τα υπόλοιπα είναι παγωτά μπανάνας. Πόσα παγωτά σοκολάτας αγόρασε ο πατέρας;
5. Η μητέρα κρατούσε € 10. Ξόδεψε το  $\frac{1}{2}$  από αυτά για βενζίνη. Πόσα χρήματα της έμειναν;
6. Ο Πέτρος χάρισε στη δασκάλα του μία ανθοδέσμη με 12 τριαντάφυλλα. Το  $\frac{1}{3}$  των τριαντάφυλλων ήταν άσπρα. Πόσα ήταν τα άσπρα τριαντάφυλλα;