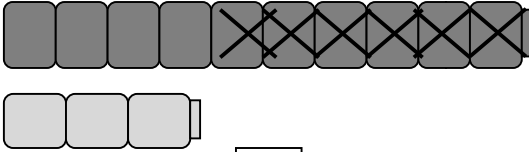




ΔΗΜΟΤΙΚΟ ΣΧΟΛΕΙΟ

Όνομα: _____ Τάξη: _____

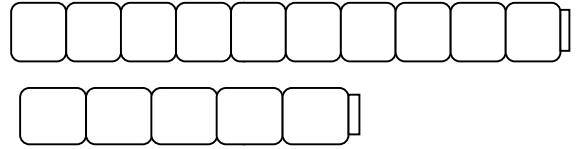
1. Λύνω όπως το παράδειγμα:



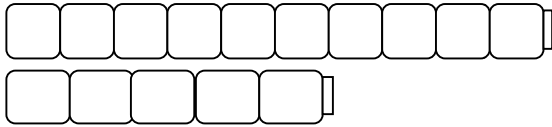
$13 - 6 = 7$

$10 - 6 = 4$

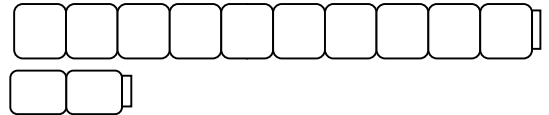
$4 + 3 = 7$



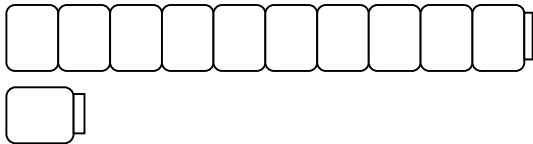
$15 - 9 =$



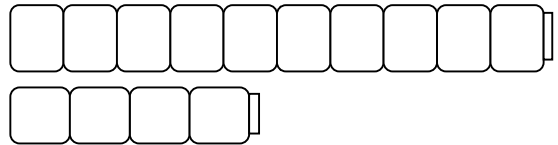
$15 - 6 =$



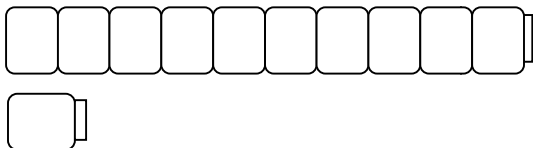
$12 - 5 =$



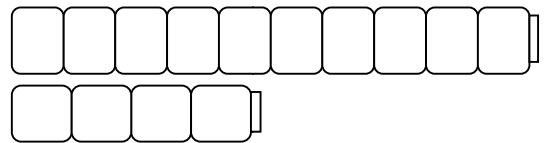
$11 - 6 =$



$14 - 6 =$

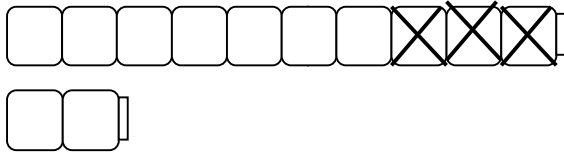


$11 - 3 =$



$14 - 8 =$

2. Τώρα προσπάθησε να λύσεις τις πιο κάτω πράξεις ακολουθώντας τον ίδιο τρόπο όπως το παιδάκι:



$$12 - 3 = 9$$

$$\begin{array}{r} 10 \quad 2 \\ 7 \end{array}$$

$17 - 9 =$

$11 - 9 =$

$11 - 6 =$

$15 - 6 =$

$16 - 7 =$

$16 - 9 =$

$13 - 8 =$

$15 - 8 =$

$18 - 9 =$

$12 - 7 =$

$12 - 4 =$

$15 - 7 =$

$13 - 4 =$

$13 - 7 =$

$14 - 6 =$

3. Λύσε τα προβλήματα:



A) Ο Αντρέας είναι 14 χρονών. Η αδερφή του η Μαρία είναι 5 χρόνια μικρότερη. Πόσων χρονών είναι η Μαρία;

Μαθηματική πρόταση: _____

Απάντηση: _____

B) Η μαμά αγόρασε 12 αυγά. Χρησιμοποίησε 4 από τα αυγά για να φτιάξει γλύκισμα. Τα υπόλοιπα τα φύλαξε στο ψυγείο. Πόσα αυγά φύλαξε στο ψυγείο;

Μαθηματική πρόταση: _____

Απάντηση: _____

