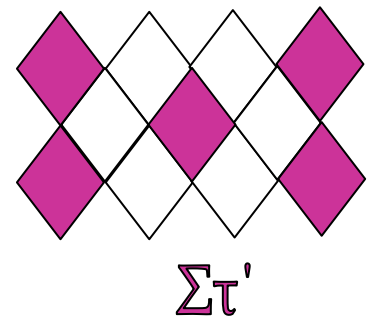


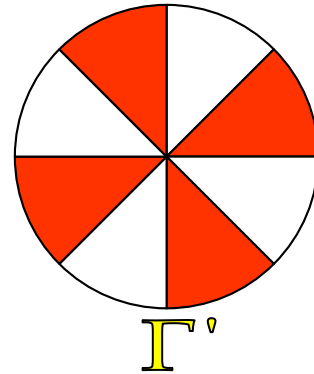



Μαθηματικά Δ' - Αξία κλασμάτων

Τα ακόλουθα σχήματα παριστάνουν τον αριθμό των παιδιών ενός Δημοτικού Σχολείου που έχουν ταξιδέψει στο εξωτερικό. Παρατηρώντας προσεχτικά το σκιασμένο και ασκίαστο μέρος των επιφανειών της κάθε τάξης να συμπληρώσετε τον παρακάτω πίνακα.



Τάξη	Αριθμός μαθητών	Ταξίδεψαν στο εξωτερικό (σκιασμένο)	Δεν ταξίδεψαν στο εξωτερικό (ασκίαστο)
A'	45		
B'	60		
Γ'	72		
Δ'	60		
Ε'	48		
Στ'	55		