

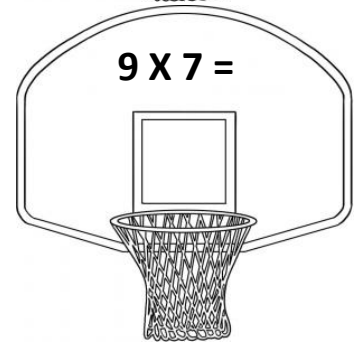
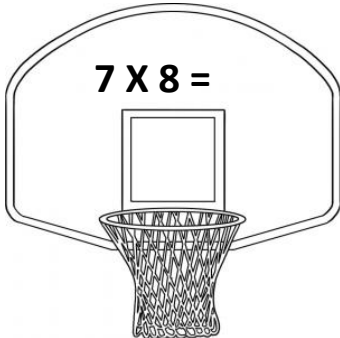


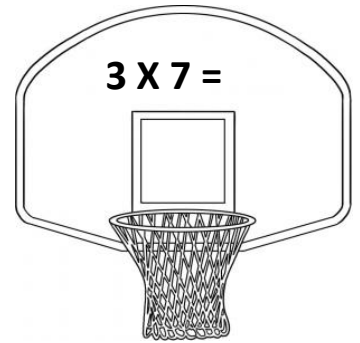

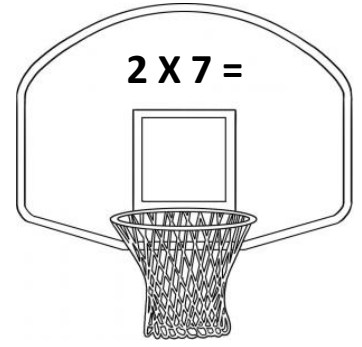


ΔΗΜΟΤΙΚΟ ΣΧΟΛΕΙΟ

Όνομα: _____ Τάξη: _____

Προπαίδεια του 7

Έλα να ρίξουμε καλαθιές! Βάλε σε κάθε καλάθι την μπάλα που του αναλογεί.





Λύνω τα προβληματάκια που ακολουθούν:

1. Ο Παναγιώτης κατάφερε σήμερα στον αγώνα καλαθόσφαιρας να πετύχει 7 τρίποντα. Πόσους βαθμούς κατάφερε να συγκεντρώσει για την ομάδα του;

Μαθηματική πρόταση: _____

Απάντηση: _____

2. Στο ζαχαροπλαστείο παράγγειλαν 7 εξάδες αυγά για να ετοιμάσουν τα γλυκά της ημέρας. Πόσα αυγά θα χρησιμοποιήσουν;

Μαθηματική πρόταση: _____

Απάντηση: _____

3. Ο μπαμπάς έχει στο πορτοφόλι του 7 χαρτονομίσματα των 10 ευρώ. Πόσα χρήματα έχει ο πατέρας στο πορτοφόλι του;

Μαθηματική πρόταση: _____

Απάντηση: _____



4. Η μαμά αγόρασε 2 παραμύθια για την Ιωάννα που το καθένα στοίχιζε 7 ευρώ. Πόσα πλήρωσε;

Μαθηματική πρόταση: _____

Απάντηση: _____

5. Ο Βασίλης τοποθέτησε τα στρατιωτάκια του σε 7 σειρές. Σε κάθε σειρά έβαλε 9 στρατιωτάκια. Πόσα συνολικά στρατιωτάκια έχει ο Βασίλης;

Μαθηματική πρόταση: _____

Απάντηση: _____