



ΔΗΜΟΤΙΚΟ ΣΧΟΛΕΙΟ .....

Όνομα: \_\_\_\_\_ Τάξη: \_\_\_\_\_

1. Βρες το άθροισμα.

35+4=

71

83



53+5=

+ 8

+ 6

5 β.

24+3=



2. Βρες τη διαφορά.

48-6=

67

59

5 β.

74-3=

- 4

- 7

35-3=

3. Λύσε τα προβλήματα.

Ο Μάρκος έχει στον κουμπαρά του τρία χαρτονομίσματα των δέκα ευρώ και τρία κέρματα του ενός ευρώ. Θέλει να αγοράσει ένα παιδικό κομπιούτερ που στοιχίζει 39 ευρώ. Πόσα χρήματα χρειάζεται ακόμα;

Απάντηση: \_\_\_\_\_

Ο πατέρας του Δημήτρη του αγόρασε ένα ποδήλατο. Έδωσε στο ταμείο έξι χαρτονομίσματα των δέκα ευρώ και ένα χαρτονόμισμα των πέντε ευρώ. Πήρε ρέστα 4 ευρώ. Πόσα στοιχισε το ποδήλατο;

Απάντηση: \_\_\_\_\_





Λύσε τις ασκήσεις.

$43 + \dots = 48$

$57 - \dots = 52$

$70 : \dots = 10$

$61 + \dots = 67$

$86 - \dots = 84$

$10 \times \dots = 90$

$32 + \dots = 36$

$59 - \dots = 51$

$40 : \dots = 5$

$25 + \dots = 29$

$78 - \dots = 75$

$60 : \dots = 3$

Η Μαρία μάζεψε μαργαρίτες από τον κήπο. Έδωσε 6 μαργαρίτες στον αδελφό της και της έμειναν 22. Πόσες μαργαρίτες μάζεψε η

Μαρία:



Απάντηση: \_\_\_\_\_

Στο λεωφορείο ήταν 49 επιβάτες. Στη στάση κατέβηκαν 5. Πόσοι επιβάτες έμειναν στο λεωφορείο;




Απάντηση: \_\_\_\_\_

Στο σακούλι μου είχα βόλους. Έδωσα 3 βόλους στο φίλο μου και μου έμειναν 24 βόλοι. Πόσους βόλους είχα στο σακούλι;

Απάντηση: \_\_\_\_\_

Είχα στον κουμπάρά μου μερικά χρήματα. Αγόρασα ένα μολύβι που στοίχιζε 8 σεντ. Μου έμειναν 71 σεντ.



Πόσα χρήματα είχε ο Χρήστος στον κουμπάρά του;

Απάντηση: \_\_\_\_\_

Η Χρυστάλλα και η Λουίζα αγόρασαν ένα ποδήλατο η καθεμιά. Το ποδήλατο της Χρυστάλλας στοίχισε 53 ευρώ. Το ποδήλατο της Λουίζας ήταν 5 ευρώ πιο ακριβό. Πόσα στοίχισε το ποδήλατο της Λουίζας;

Απάντηση: \_\_\_\_\_

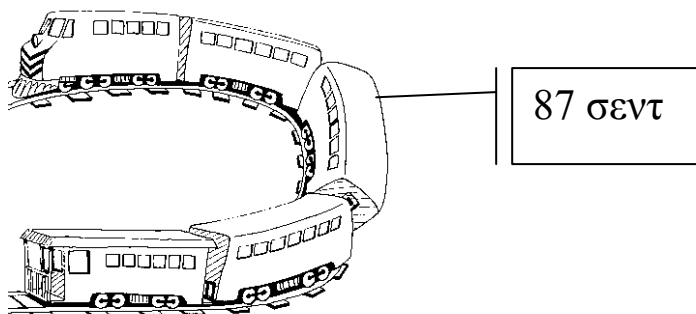
Ο Χαράλαμπος αγόρασε μια μπάλα που η τιμή της ήταν 80 σεντ.

Πλήρωσε με κέρματα των 20 σεντ. Πόσα κέρματα έδωσε;

Απάντηση: \_\_\_\_\_



Βάλε κάτω από τα κέρματα που χρειάζεσαι για να αγοράσεις το τρενάκι.



Στο πορτοφόλι μου υπάρχουν πέντε κέρματα. Η αξία τους είναι 49 σεντ. Μπορείς να μαντέψεις ποια κέρματα είναι;

\_\_\_\_\_

Κάνε τις πράξεις:

$5 \times 3 =$

$7 \times 5 =$

9

10

7

$2 \times 20 =$

$20 \times 5 =$

X 5

X 4

X 10

$8 \times 5 =$

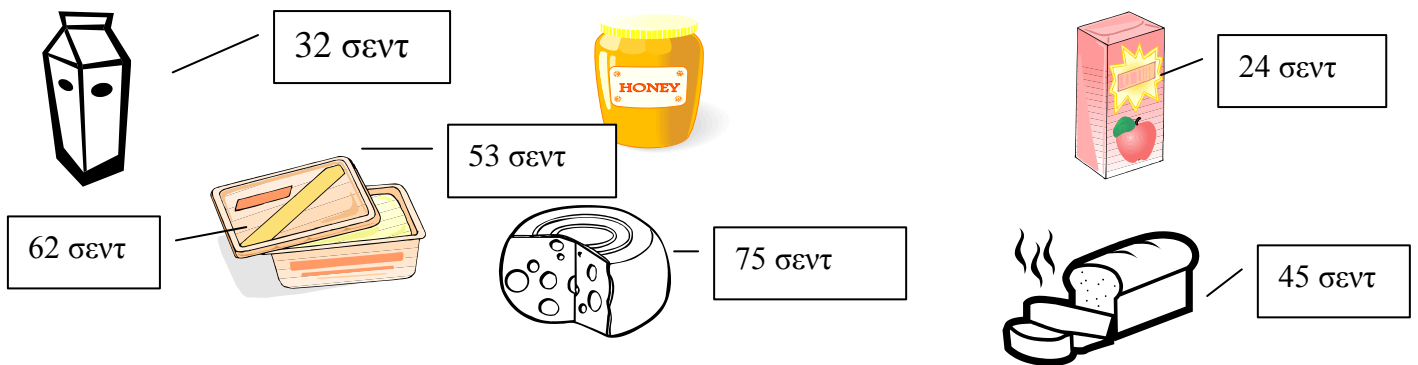
$5 \times 4 =$

$6 \times 5 =$

$5 \times 9 =$

$3 \times 30 =$

$2 \times 50 =$



Αγόρασα ένα λίτρο γάλα και ένα χυμό. Πόσα πλήρωσα;

Απάντηση: \_\_\_\_\_

Αγόρασα ένα κουτί μαρμελάδα και ψωμί. Πόσα πλήρωσα;

Απάντηση: \_\_\_\_\_

Κρατούσα μία λίρα. Αγόρασα ένα τυρί. Πόσα χρήματα μου έμειναν;

Απάντηση: \_\_\_\_\_

Πόσο πιο φθινό είναι το γάλα από το βούτυρο;

Απάντηση: \_\_\_\_\_

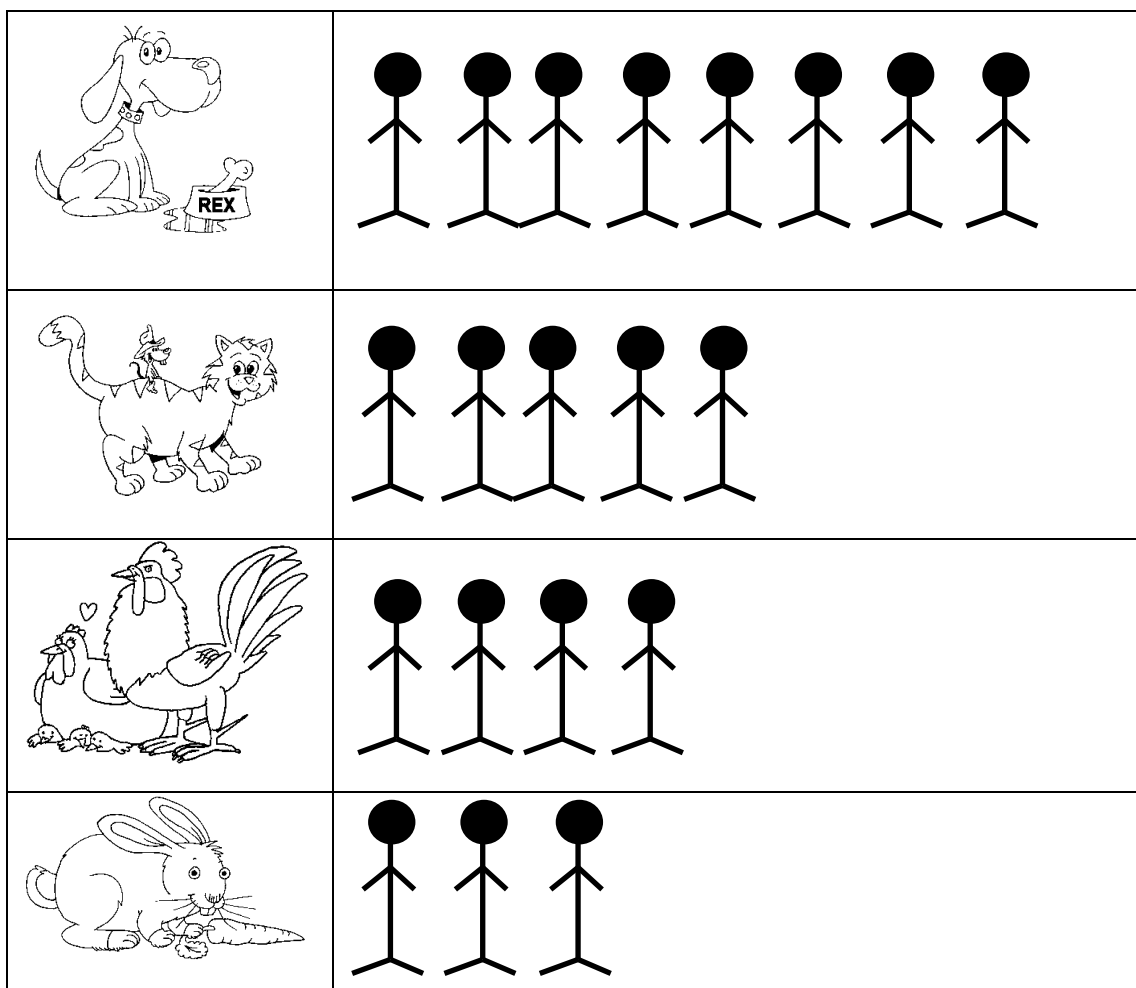
Γράψε ένα δικό σου πρόβλημα για τον τιμοκατάλογο.

---

---

---

Η γραφική παράσταση δείχνει πόσα παιδιά έχουν στο σπίτι τους σκύλο, γάτα, κόττες, κουνέλι.



Πόσα παιδιά έχουν στο σπίτι τους σκύλο; \_\_\_\_\_

Πόσα παιδιά έχουν στο σπίτι τους γάτα; \_\_\_\_\_

Πόσα παιδιά έχουν στο σπίτι τους κόττες; \_\_\_\_\_

Πόσα παιδιά έχουν στο σπίτι τους κουνέλι; \_\_\_\_\_

Γράψε μια ερώτηση χρησιμοποιώντας τη λέξη περισσότερα και μια ερώτηση χρησιμοποιώντας τη λέξη λιγότερα.





---

---

Ο Κωνσταντίνος αγόρασε μία ξύστρα. Η Ελευθερία αγόρασε ένα κουτί χρωματιστά.

*Συμπλήρωσε τον πίνακα*

*για να δείξεις πόσα χρήματα έμειναν στο κάθε παιδί.*

Όνομα	Χρήματα που είχε	Αγόρασε	Χρήματα που έμειναν
Κωνσταντίνος		 35 σ.	_____
Ελευθερία		 62 σ.	_____

Πόσα δισκάκια χρειάζεται ο ζαχαροπλάστης, για να βάλει 45 τάρτες, αν κάθε δισκάκι χωρεί 5 τάρτες;

Απάντηση: \_\_\_\_\_

Πόσα δάκτυλα έχουν 10 χέρια;

Απάντηση: \_\_\_\_\_

**Καλή επιτυχία!**