

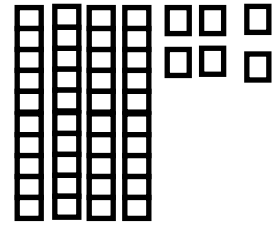




ΔΗΜΟΤΙΚΟ ΣΧΟΛΕΙΟ

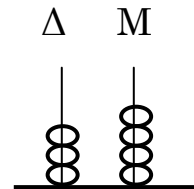
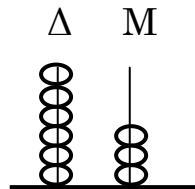
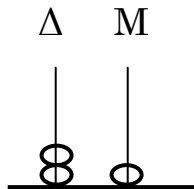
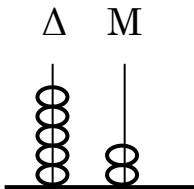
Όνομα: _____ Τάξη: _____

ΕΠΑΝΑΛΗΨΗ ΕΝΟΤΗΤΑΣ 5

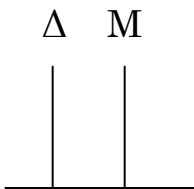
1. Ποιος αριθμός σχηματίζεται;



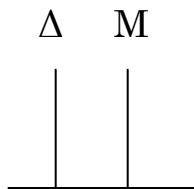
2. Γράψε τον αριθμό που δείχνουν τα αριθμητήρια:



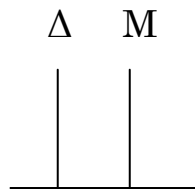
3. Σχημάτισε τον αριθμό στα κατακόρυφα αριθμητήρια:



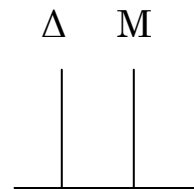
28



57

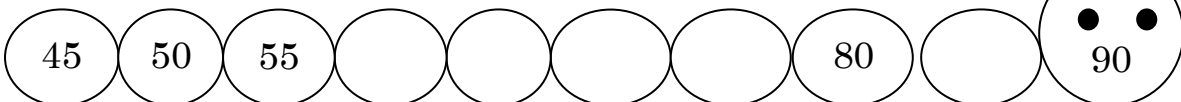


34




61


4. Συνέχισε το μοτίβο στην κάμπα:




5. Χρωμάτισε τα κουτάκια και φτιάξε τους αριθμούς:



45

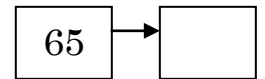
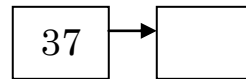
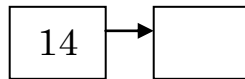
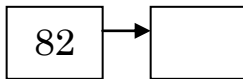


61

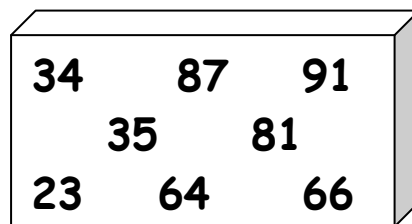


87

6. Βρες τον αριθμό που ακολουθεί:



7. Βάλε τους αριθμούς στη σειρά ξεκινώντας από το μεγαλύτερο:



8. Να συγκρίνεις τους πιο κάτω αριθμούς (<, >, =).

88 ___ 80

90 ___ 99

13 ___ 32

47 ___ 74

55 ___ 54

91 ___ 81

30 ___ 33

52 ___ 22

44 ___ 44

17 ___ 70

56 ___ 67

23 ___ 32

9. Να γράψεις τους αριθμούς που είναι μια μονάδα μικρότεροι και μια μονάδα μεγαλύτεροι από τους πιο κάτω:

$___ < 40 < ___$

$___ < 56 < ___$

$___ < 60 < ___$

$___ < 64 < ___$

$___ < 80 < ___$

$___ < 78 < ___$

$___ < 90 < ___$

$___ < 99 < ___$

10. Πόσα χρήματα έχει στον κουμπαρά του ο Αντρέας;

Είναι περισσότερα από 15.

Είναι λιγότερα από 28.

Το ψηφίο των δεκάδων είναι το ίδιο με το ψηφίο των μονάδων.



11. Βρες τις απαντήσεις:

$10 + 10 = \underline{\quad}$ $20 + 10 = \underline{\quad}$ $20 + 20 = \underline{\quad}$ $10 + 20 = \underline{\quad}$

$30 + 10 = \underline{\quad}$ $20 + 30 = \underline{\quad}$ $50 + 20 = \underline{\quad}$ $10 + 40 = \underline{\quad}$

$70 - 20 = \underline{\quad}$ $90 - 80 = \underline{\quad}$ $50 - 30 = \underline{\quad}$ $80 - 50 = \underline{\quad}$

$80 - 30 = \underline{\quad}$ $70 - 30 = \underline{\quad}$ $60 - 30 = \underline{\quad}$ $90 - 40 = \underline{\quad}$

$10 + 10 + 10 = \underline{\quad}$ $30 + 20 + 10 = \underline{\quad}$ $20 + 20 + 40 = \underline{\quad}$

$10 + 50 + 10 = \underline{\quad}$ $20 + 30 + 20 = \underline{\quad}$ $10 + 20 + 10 = \underline{\quad}$

$90 + 2 = \underline{\quad}$ $20 + 8 = \underline{\quad}$ $70 + 9 = \underline{\quad}$ $50 + 5 = \underline{\quad}$

$80 + 4 = \underline{\quad}$ $60 + 7 = \underline{\quad}$ $40 + 8 = \underline{\quad}$ $30 + 4 = \underline{\quad}$

$45 - 5 = \underline{\quad}$ $74 - 4 = \underline{\quad}$ $93 - 3 = \underline{\quad}$ $27 - 7 = \underline{\quad}$

$51 - 1 = \underline{\quad}$ $68 - 8 = \underline{\quad}$ $32 - 2 = \underline{\quad}$ $16 - 6 = \underline{\quad}$