

Πίνακας του 4



Πόσα πόδια έχουν;



$1 \times 4 =$



$2 \times 4 =$




$3 \times 4 =$



$4 \times 4 =$



$5 \times 4 =$




$6 \times 4 =$



$7 \times 4 =$



$8 \times 4 =$



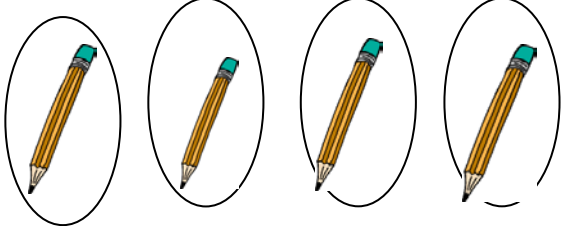
$9 \times 4 =$

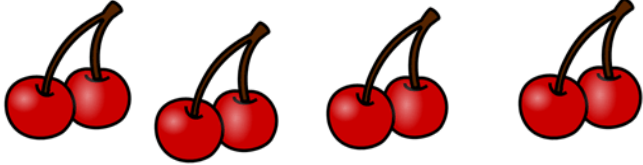


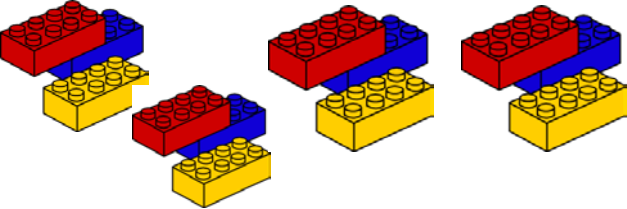
$10 \times 4 =$





Γράφω τη μαθηματική πρόταση:

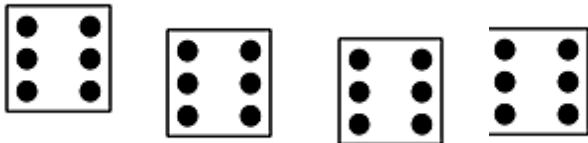




















Να συμπληρώσεις τον παρακάτω πίνακα.


φορές	1	2	3	4	5	6	7	8	9	10
το 4										



Βρες το τετραπλάσιο:

- | | | |
|---------------|----------------|---------------|
| Του 2 → _____ | του 5 → _____ | του 8 → _____ |
| Του 4 → _____ | του 10 → _____ | του 7 → _____ |
| Του 6 → _____ | του 3 → _____ | του 0 → _____ |

Συμπλήρωσε το μοτίβο:



		8	12		20			34		40
--	--	---	----	--	----	--	--	----	--	----

Λύσε τις πράξεις:

$2 \times 4 =$

$1 \times 4 =$

$12 : 4 =$

$8 : 4 =$

$10 \times 4 =$

$5 \times 4 =$

$4 : 4 =$

$16 : 4 =$

$3 \times 4 =$

$6 \times 4 =$

$40 : 4 =$

$20 : 4 =$

$8 \times 4 =$

$9 \times 4 =$

$24 : 4 =$

$36 : 4 =$

$4 \times 4 =$

$7 \times 4 =$

$28 : 4 =$

$40 : 4 =$



4 σεντ

Πόσα μολύβια μπορώ να αγοράσω με 20 σεντ;

Απάντηση: _____

Ο Αντρέας θέλει να αγοράσει 3 μολύβια. Πόσα θα πληρώσει;

Απάντηση: _____

Πόσες τετράδες μπορούν να γίνουν τα 24 παιδιά μιας τάξης;

Απάντηση: _____

Σε μια γλάστρα υπάρχουν 4 πετούνιες.



Πόσες πετούνιες υπάρχουν σε 5 γλάστρες; _____


Πόσες πετούνιες υπάρχουν σε 9 γλάστρες; _____

Προβλήματα

1. Η Αγγελική αγόρασε 4 πακέτα με τσίχλες. Κάθε πακέτο περιέχει 8 τσίχλες. Πόσες τσίχλες έχει η Αγγελική;

Πράξη: _____

Απάντηση: _____



2. Ο Βασίλης έχει 5 στρατιωτάκια. Ο Χρήστος έχει διπλάσια στρατιωτάκια από το Βασίλη. Πόσα στρατιωτάκια έχει ο Χρήστος;

Πράξη: _____

Απάντηση: _____

3. Η Μαργαρίτα είναι 8 χρονών. Η ηλικία της Δήμητρας είναι τετραπλάσιο από της Μαργαρίτας. Πόσο χρονών είναι η Δήμητρα;

Πράξη: _____

Απάντηση: _____



4. Η Ασπασία έχει στην βεράντα της 9 γλάστρες. Η Σορίνα έχει πέντε φορές περισσότερες. Πόσες γλάστρες έχει η Σορίνα;

Πράξη: _____

Απάντηση: _____

5. Ο Άρμπερ ζωγράφισε 5 σειρές με χταπόδια. Σε κάθε σειρά ζωγράφισε 7 χταπόδια. Πόσα χταπόδια ζωγράφισε;

Πράξη: _____

Απάντηση: _____



6. Ο Κώστας αγόρασε 3 κουτιά με ξυλομπογιές. Κάθε κουτί έχει 6 ξυλομπογιές. Πόσες ξυλομπογιές έχει ο Κώστας;

Πράξη: _____

Απάντηση: _____



7. Η Χριστίνα μέτρησε τις ξυλομπογιές και τους μαρκαδόρους που είχε στην κασετίνα της. Οι ξυλομπογιές ήταν 6 και οι μαρκαδόροι ήταν 4 φορές περισσότεροι. Πόσους μαρκαδόρους είχε στην κασετίνα της ;

Πράξη: _____

Απάντηση: _____

8. Ο Νίκος είναι 3 ετών. Η ηλικία της Δήμητρας είναι τετραπλάσια από την ηλικία του Νίκου. Πόσων χρονών είναι η Δήμητρα;

Πράξη: _____

Απάντηση: _____

