


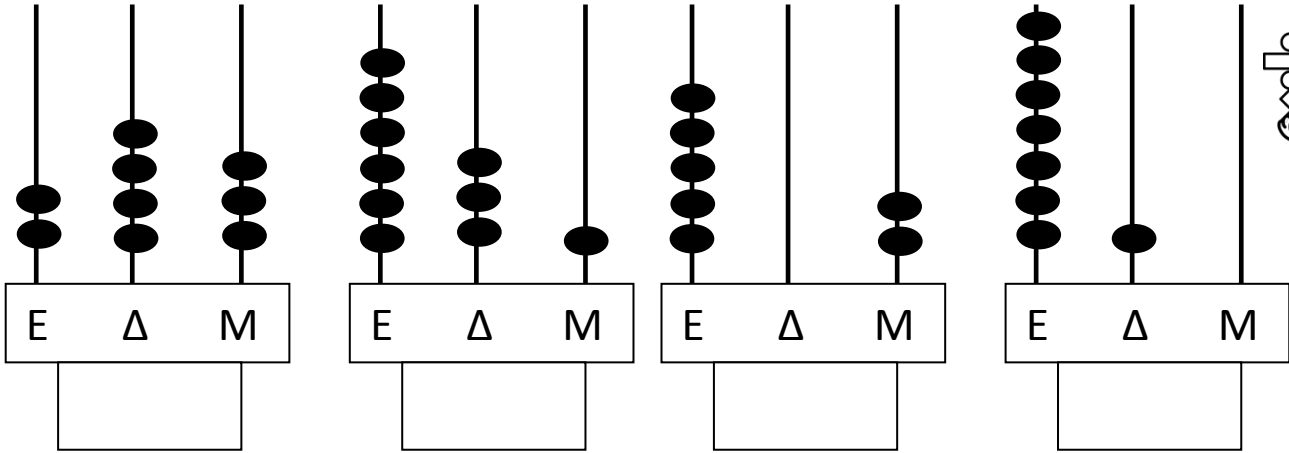


ΔΗΜΟΤΙΚΟ ΣΧΟΛΕΙΟ

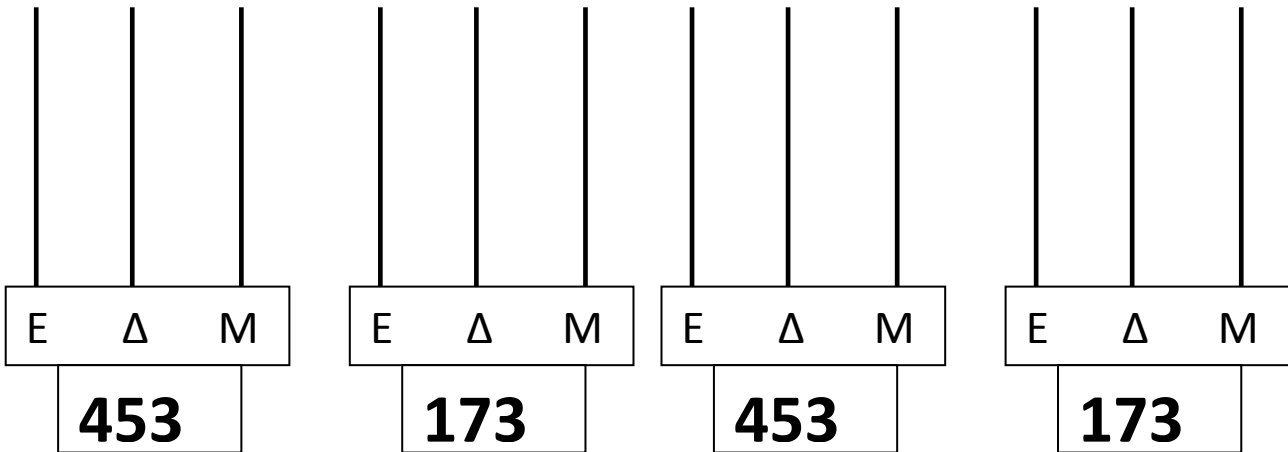
Όνομα: _____ Τάξη: _____

Οι αριθμοί μέχρι το 1000

1. Ποιος τριψήφιος αριθμός παρουσιάζεται στο αριθμητήριο:



2. Δείξε τους τριψήφιους αριθμούς στο αριθμητήριο:



2. Να συγκρίνεις τους αριθμούς, χρησιμοποιώντας τα σύμβολα < > =

632 355

564 514

707 607

712 421

356 365

292 229

654 452

203 302


871 817

3. Να δείξεις με τρεις διαφορετικούς τρόπους τους πιο κάτω αριθμούς:


672

459

4. Βάλε τις κολοκύθες στη σειρά αρχίζοντας από αυτή που έχει το μικρότερο βάρος.



1. Βάλε σε σειρά τα φαντασματάκια αρχίζοντας από αυτό που έχει το μεγαλύτερο αριθμό.



Συνέχισε τα μοτίβα:

100	200								
	300	500							
		450	600						