

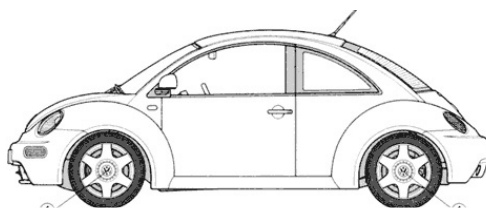
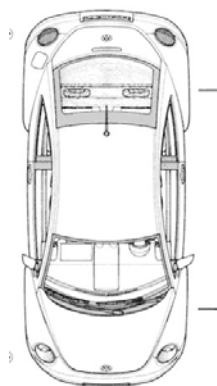
ΦΥΛΛΟ ΕΡΓΑΣΙΑΣ

Όνομα: _____ Τμήμα: _____

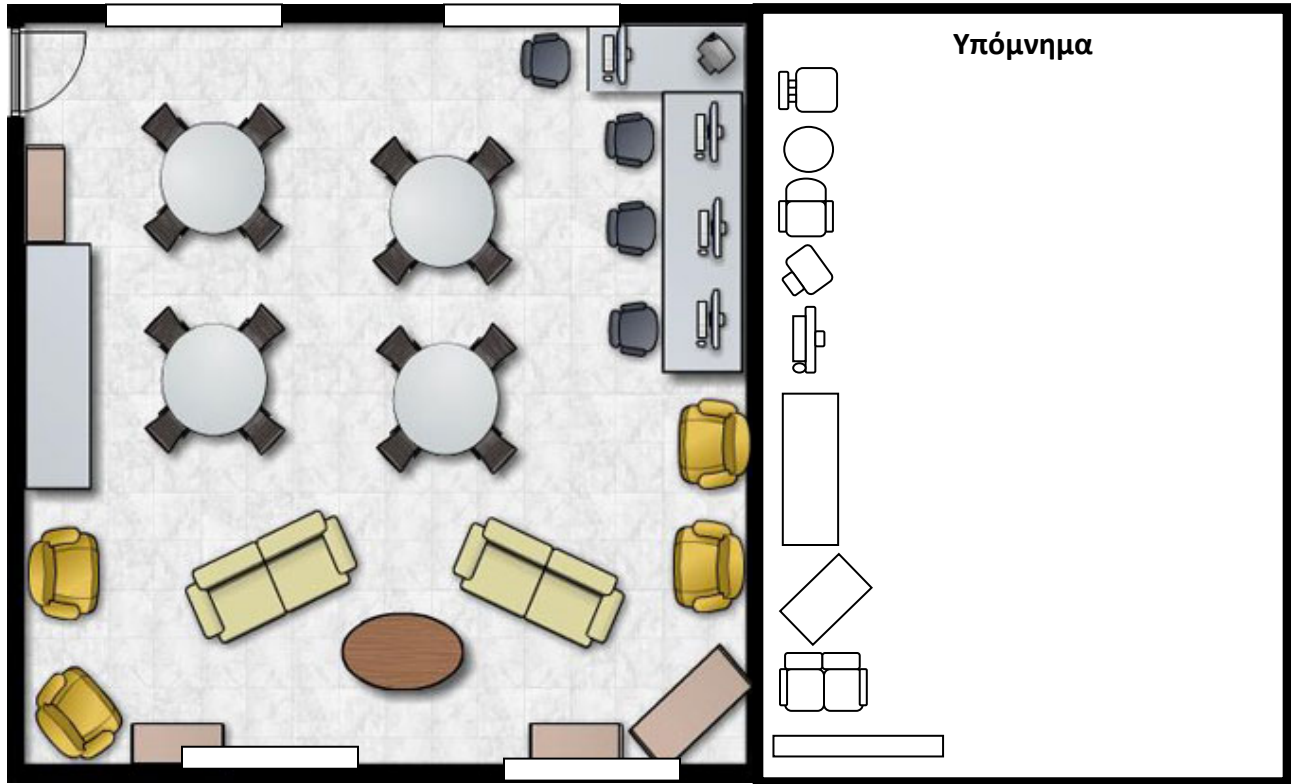
1. Ποια εικόνα δείχνει την πλάγια όψη και ποια την κάτοψη;



2. Ποια όψη δείχνουν οι πιο κάτω εικόνες; (κάτοψη, πρόσοψη, πλάγια όψη)



4.Πιο κάτω είναι το σχέδιο μιας άλλης αίθουσας. Τα παιδιά τοποθέτησαν με διαφορετικό σχήμα τα θρανία τους. Το υπόμνημα που βρίσκεται δίπλα στο σχέδιο πρέπει να συμπληρωθεί έτσι ώστε να μας βοηθά να καταλάβουμε ποια έπιπλα και αντικείμενα υπάρχουν στην τάξη.



5. Αντιστοιχίζω κάθε αντικείμενο με την κάτοψή του.

