



ΔΗΜΟΤΙΚΟ ΣΧΟΛΕΙΟ


Όνομα: _____ Τάξη: _____

Μαθηματικά Β΄

1. Ποιο είναι το σπιτάκι του Χαχανούλη;




- ❖ Έχει κύκλους και τρίγωνα.
- ❖ Δεν έχει κανένα ορθογώνιο.
- ❖ Οι κύκλοι είναι δύο περισσότεροι από τα τρίγωνα.
- ❖ Ο αριθμός των κύκλων είναι πολλαπλάσιο του 2.

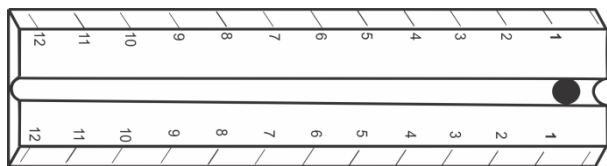


2. Ποιο είναι το σπιτάκι της Στρομφίτας;

- ❖ Έχει κύκλους και τετράγωνα.
- ❖ Δεν έχει κανένα ορθογώνιο.
- ❖ Βρίσκω τον αριθμό των κύκλων αν μετρήσω τρία τρία.




3. Πόσα εκατοστόμετρα (cm) πιο μακρύ είναι το μολύβι από τη ρίγα;



..... cm

4. Πόσα εκατοστόμετρα (cm) πιο μακρύ είναι το μολύβι από το παστέλ;



..... cm