



ΔΗΜΟΤΙΚΟ ΣΧΟΛΕΙΟ

Όνομα: _____ Τάξη: _____

Αισθητοποίηση διψήφιων αριθμών

Γράφω την κατάλληλη μαθηματική πρόταση:

ΔΕΚΑΔΕΣ	ΜΟΝΑΔΕΣ
<input type="text"/>	<input type="text"/>
$+$	$=$
<input type="text"/>	<input type="text"/>

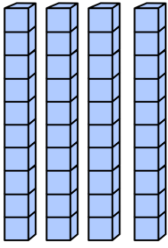

ΔΕΚΑΔΕΣ	ΜΟΝΑΔΕΣ
<input type="text"/>	<input type="text"/>
$+$	$=$
<input type="text"/>	<input type="text"/>

ΔΕΚΑΔΕΣ	ΜΟΝΑΔΕΣ
<input type="text"/>	<input type="text"/>
$+$	$=$
<input type="text"/>	<input type="text"/>

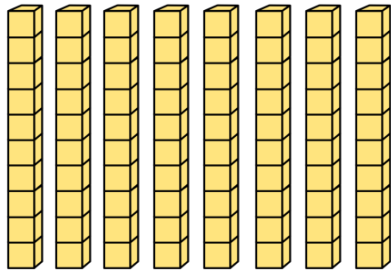

ΔΕΚΑΔΕΣ	ΜΟΝΑΔΕΣ
<input type="text"/>	<input type="text"/>
$+$	$=$
<input type="text"/>	<input type="text"/>

ΔΕΚΑΔΕΣ	ΜΟΝΑΔΕΣ
<input type="text"/>	<input type="text"/>
$+$	$=$
<input type="text"/>	<input type="text"/>

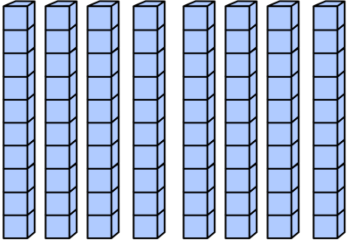

ΔΕΚΑΔΕΣ	ΜΟΝΑΔΕΣ
<input type="text"/>	<input type="text"/>
$+$	$=$
<input type="text"/>	<input type="text"/>

ΔΕΚΑΔΕΣ	ΜΟΝΑΔΕΣ
	

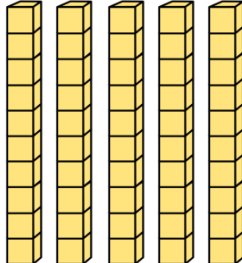

$$\square + \square = \square$$

ΔΕΚΑΔΕΣ	ΜΟΝΑΔΕΣ
	


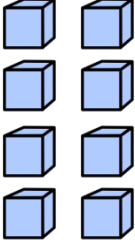
$$\square + \square = \square$$

ΔΕΚΑΔΕΣ	ΜΟΝΑΔΕΣ
	

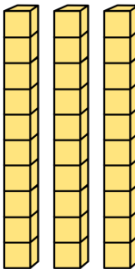
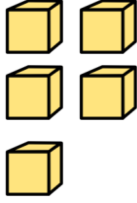
$$\square + \square = \square$$

ΔΕΚΑΔΕΣ	ΜΟΝΑΔΕΣ
	

$$\square + \square = \square$$

ΔΕΚΑΔΕΣ	ΜΟΝΑΔΕΣ
	

$$\square + \square = \square$$

ΔΕΚΑΔΕΣ	ΜΟΝΑΔΕΣ
	

$$\square + \square = \square$$