

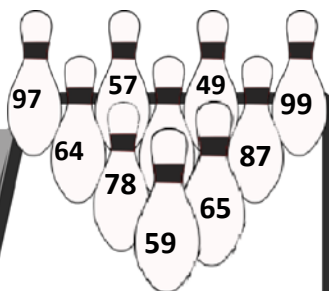


ΔΗΜΟΤΙΚΟ ΣΧΟΛΕΙΟ

Όνομα: _____ Τάξη: _____

Πρόσθεση διψήφιων αριθμών

Ποιος από τους δύο ιπποπόταμους θα είναι νικητής άραγε; Λύσε τις ασκήσεις και διέγραψε τις κορίνες που αντιστοιχούν στις απαντήσεις για να βρεις ποιος ιπποπόταμος στέφθηκε νικητής.

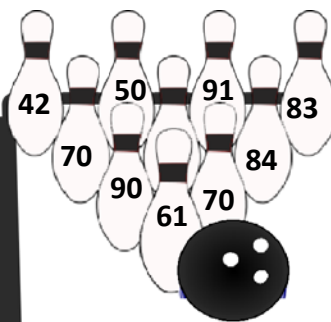


$$\begin{array}{r} 21 \\ + 28 \\ \hline \end{array} \quad \begin{array}{r} 35 \\ + 64 \\ \hline \end{array} \quad \begin{array}{r} 15 \\ + 72 \\ \hline \end{array}$$

$$\begin{array}{r} 43 \\ + 22 \\ \hline \end{array} \quad \begin{array}{r} 46 \\ + 32 \\ \hline \end{array} \quad \begin{array}{r} 19 \\ + 40 \\ \hline \end{array}$$

$$\begin{array}{r} 21 \\ + 43 \\ \hline \end{array} \quad \begin{array}{r} 65 \\ + 31 \\ \hline \end{array} \quad \begin{array}{r} 16 \\ + 23 \\ \hline \end{array}$$

$$\begin{array}{r} 52 \\ + 37 \\ \hline \end{array}$$





$$\begin{array}{r} 14 \\ + 28 \\ \hline \end{array} \quad \begin{array}{r} 35 \\ + 35 \\ \hline \end{array} \quad \begin{array}{r} 33 \\ + 17 \\ \hline \end{array}$$

$$\begin{array}{r} 68 \\ + 23 \\ \hline \end{array} \quad \begin{array}{r} 46 \\ + 37 \\ \hline \end{array} \quad \begin{array}{r} 25 \\ + 57 \\ \hline \end{array}$$

$$\begin{array}{r} 66 \\ + 18 \\ \hline \end{array} \quad \begin{array}{r} 32 \\ + 38 \\ \hline \end{array} \quad \begin{array}{r} 36 \\ + 25 \\ \hline \end{array}$$

$$\begin{array}{r} 55 \\ + 35 \\ \hline \end{array}$$



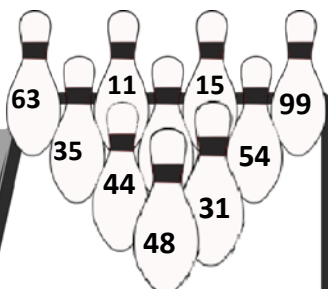


ΔΗΜΟΤΙΚΟ ΣΧΟΛΕΙΟ

Όνομα: _____ Τάξη: _____

Αφαίρεση διψήφιων αριθμών

Η μάχη όμως συνεχίζεται. Άραγε θα καταφέρει να ισοφαρίσει ο ιπποπόταμος ή θα είναι ο ηττημένος. Λύσε τις πράξεις και διέγραψε τις κορίνες που αντιστοιχούν στις απαντήσεις για να δεις τι έγινε στο τέλος του παιχνιδιού.

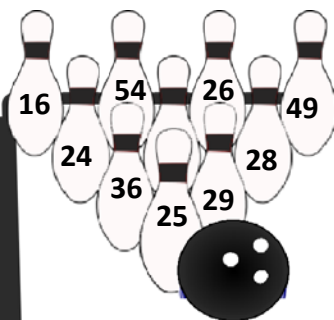


28	38	85
- 17	- 23	- 22
_____	_____	_____

47	96	89
- 12	- 52	- 41
_____	_____	_____

71	75	88
- 40	- 21	- 52
_____	_____	_____

97
- 47



54	85	43
- 28	- 36	- 15
_____	_____	_____

68	42	54
- 39	- 17	- 18
_____	_____	_____

62	92	31
- 38	- 38	- 15
_____	_____	_____

75
- 38

