
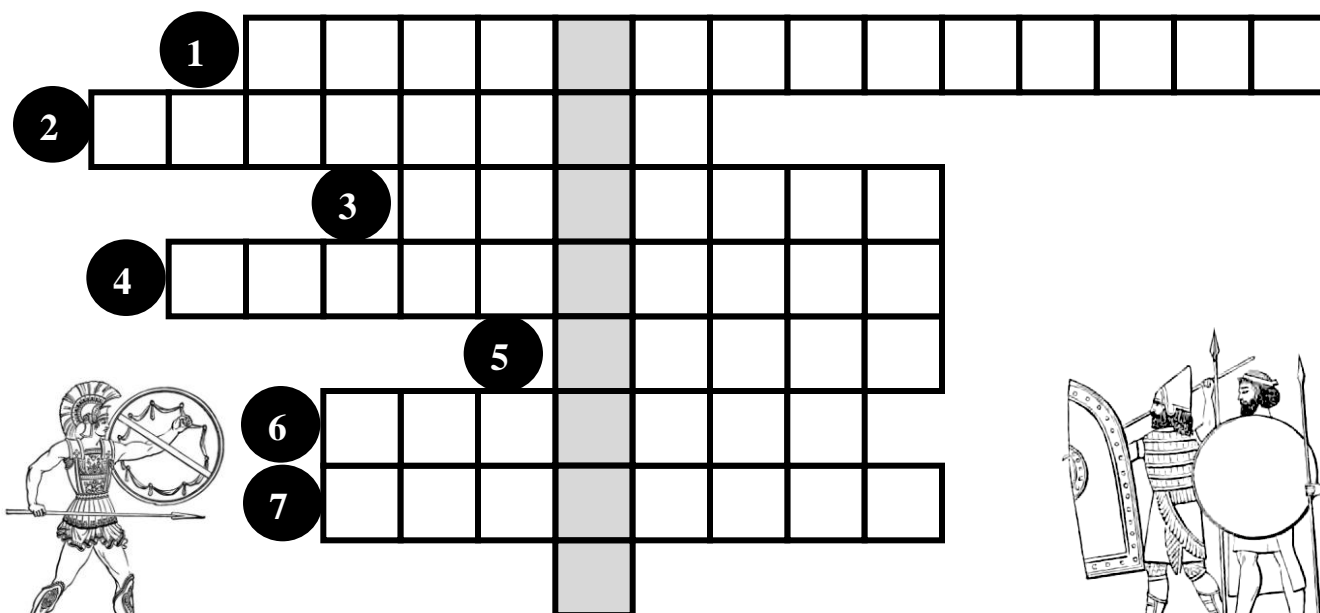


ΚΥΠΡΟΑΡΧΑΙΚΑ ΧΡΟΝΙΑ

Όνομα: Τμήμα:

1. Συμπλήρωσε την ακροστιχίδα.



Κάθετα

1. Κύπριος βασιλιάς που επαναστάτησε εναντίον των Περσών.

Οριζόντια

1. Έτσι ονομάζεται η κυπριακή γραφή στα Αρχαϊκά χρόνια.
2. Αρχαία πόλη κοντά στη σημερινή Αμμόχωστο που γνώρισε μεγάλη ανάπτυξη στα Αρχαϊκά χρόνια
3. Ονομάζονταν οι κάτοικοι του βασιλείου.
4. Έτσι ονομάζονται αυτά που τοποθετούσαν στους τάφους μαζί με το νεκρό.
5. Έλληνες που βοήθησαν τον Ονήσιλο στην επανάσταση εναντίον των Περσών στέλνοντας πλοία και στρατιώτες.
6. Κύπριος βασιλιάς που έκοψε τα δικά του νομίσματα με τη σφραγίδα του επάνω.
7. Ονομαζόταν το πιο ψηλό σημείο των αρχαίων πόλεων.

2. Οι κυριότεροι κατακτητές της Κύπρου αυτή την περίοδο ήταν

.....,,

3. Τι παρουσιάζουν οι εικόνες;



.....

4. Στα αρχαϊκά χρόνια η Κύπρος εξακολουθούσε να είναι χωρισμένη σε πόλεις – κράτη. Γράψε δύο λόγους που λαμβάνονταν υπόψη για τον τόπο που θα κτιστεί μια πόλη.


.....
.....
.....

5. Από πού καταλαβαίνουμε ότι η Σαλαμίνα στα χρόνια του βασιλιά Ευέλθωντα έγινε σπουδαία και δυνατή πόλη;

.....
.....
.....



6. Ποιοι οι λόγοι της επανάστασης του Ονήσιλου; Εναντίον ποιων επαναστάτησε; Ποια ήταν η κατάληξή της;



.....

.....

.....

.....

.....

.....

.....

7. Πώς κρίνεις την προσπάθεια του Ονήσιλου να επαναστατήσει εναντίον των Περσών;

.....

.....

.....

.....

.....

.....

.....

8. Μετά την ήττα των Κυπρίων οι Πέρσες έγιναν πιο σκληροί. Εκτός από τους φόρους που πλήρωναν, τι άλλο ήταν αναγκασμένοι οι Κύπριοι να προσφέρουν προς τους Πέρσες;

.....

.....

.....

Καλή επιτυχία!

