



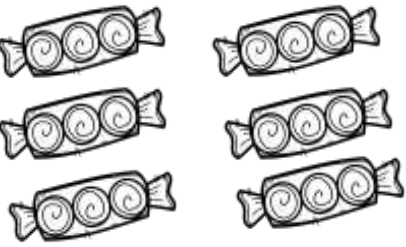


Όνομα: _____ Τάξη: _____

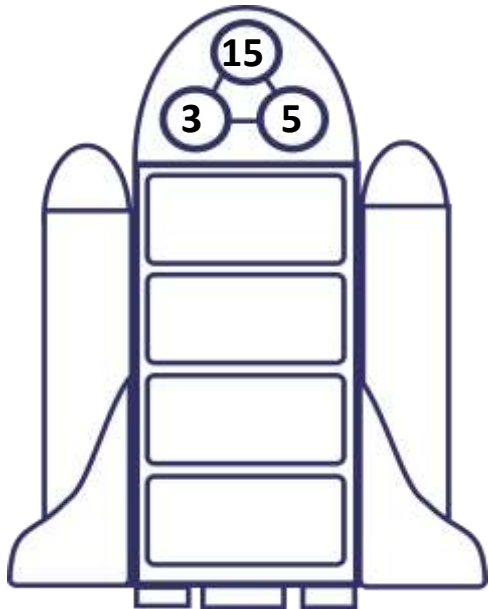
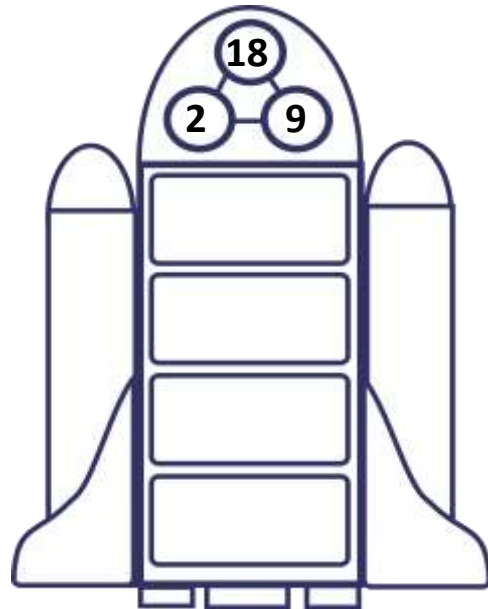
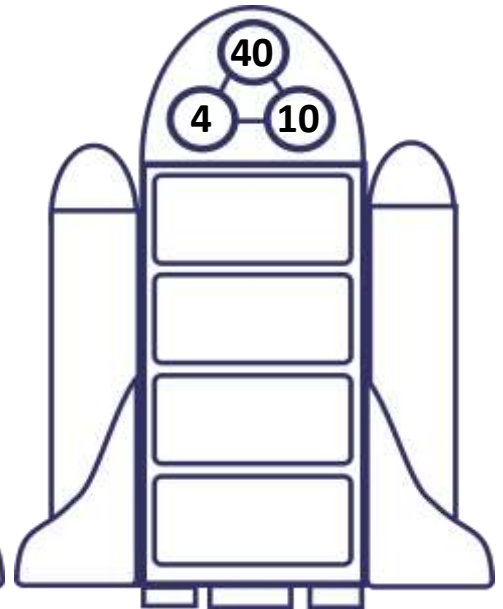
Διαγνωστική άσκηση στην Ενότητα 6:

Μοτίβα πολλαπλασιασμού

1. Συμπληρώνω τις μαθηματικές προτάσεις πολλαπλασιασμού και διαίρεσης:

 <p>..... X =</p> <p>..... ÷ =</p>	 <p>..... X =</p> <p>..... ÷ =</p>	 <p>..... X =</p> <p>..... ÷ =</p>
---	--	---

2. Δημιουργώ ισότητες πολλαπλασιασμού και διαίρεσης με τους αριθμούς που μου δίνονται:

		
--	--	---

3. Κλείνω σε κύκλους τους:

ΑΡΤΙΟΥΣ ΑΡΙΘΜΟΥΣ	30	43	42	86	71	25	8	24
ΠΕΡΙΤΤΟΥΣ ΑΡΙΘΜΟΥΣ	12	11	97	98	32	39	5	65

